

Plano Inclinado

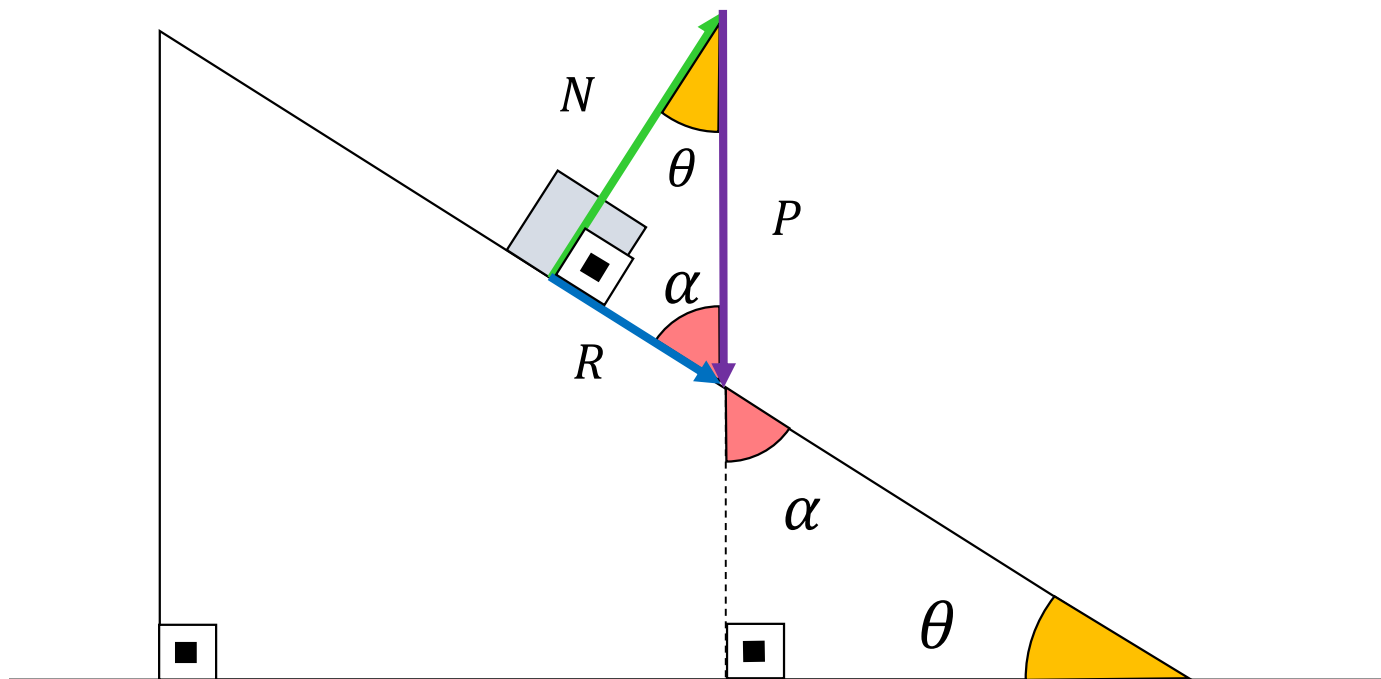
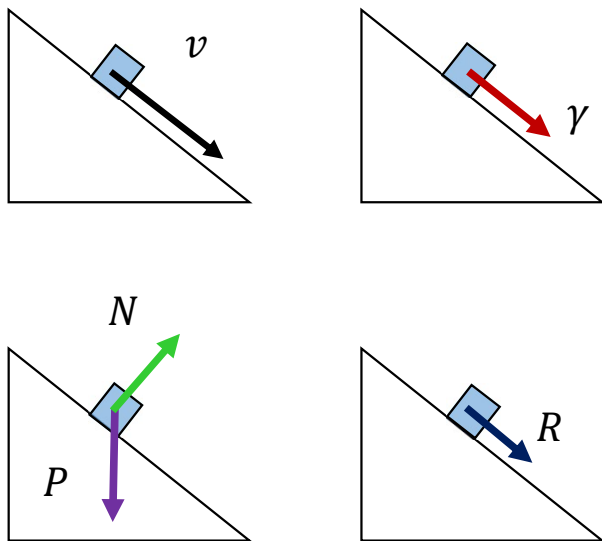
Aula 20 / Página 324 / Apostila 3

Apresentação e demais documentos: fisicasp.com.br

Professor Caio – Física A

Plano inclinado em repouso e corpo acelerado em relação à Terra

Regra do polígono



$$\sin \theta = \frac{R}{P} \rightarrow \boxed{R = P \cdot \sin \theta} \rightarrow \cancel{m \cdot |a| = m \cdot g \cdot \sin \theta} \rightarrow \boxed{|a| = g \cdot \sin \theta}$$

$$\cos \theta = \frac{N}{P} \rightarrow \boxed{N = P \cdot \cos \theta}$$

$$\vec{R} = m \cdot \vec{\gamma}$$

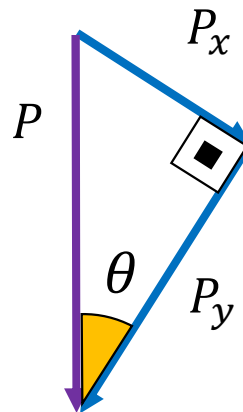
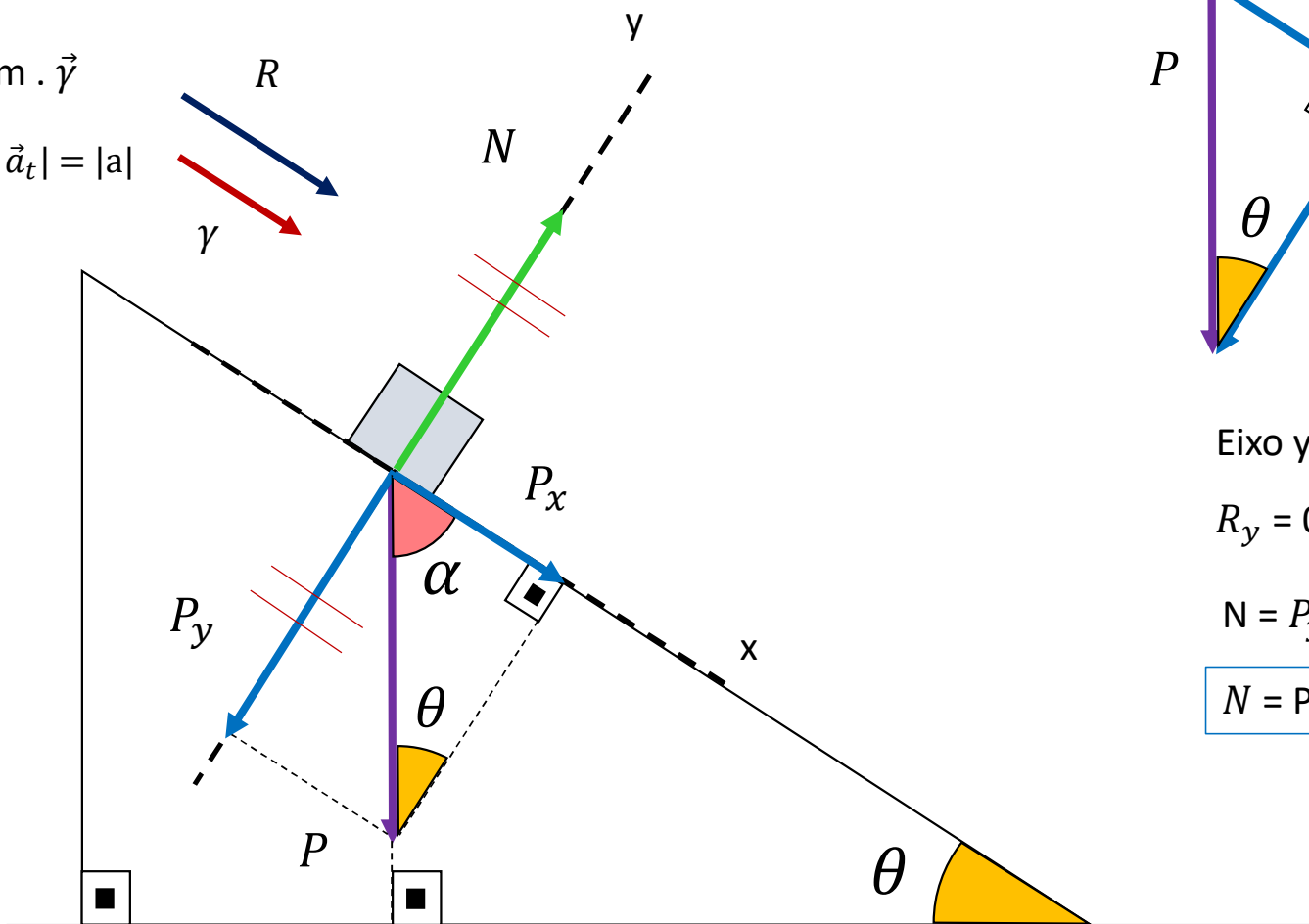
$$|\vec{\gamma}| = |\vec{a}_t| = |a|$$

Plano inclinado em repouso e corpo acelerado em relação à Terra

Decomposição

$$\vec{R} = m \cdot \vec{\gamma}$$

$$|\vec{\gamma}| = |\vec{a}_t| = |a|$$



$$\sin \theta = \frac{P_x}{P} \rightarrow P_x = P \cdot \sin \theta$$

$$\cos \theta = \frac{P_y}{P} \rightarrow P_y = P \cdot \cos \theta$$

Eixo y

$$R_y = 0$$

$$N = P_y$$

$$N = P \cdot \cos \theta$$

Eixo x

$$R_x \neq 0$$

$$R = P_x$$

$$R = P \cdot \sin \theta$$

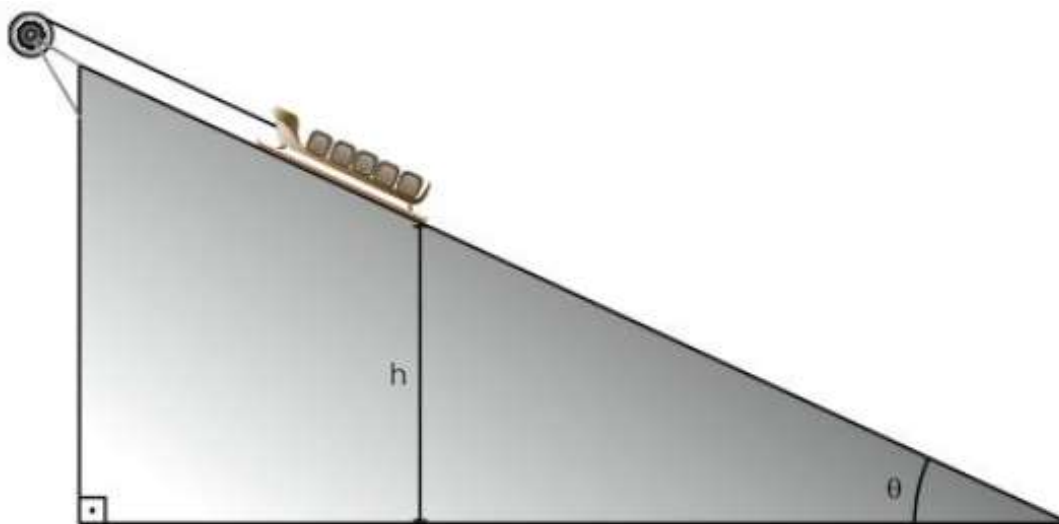
~~$$m \cdot |a| = m \cdot g \cdot \sin \theta$$~~

$$|a| = g \cdot \sin \theta$$

Exercício da apostila

1. (UFG-GO) Para se levar caixas contendo mercadorias ao topo de uma montanha em uma estação de esqui, usa-se um trenó para subir uma rampa cuja inclinação é $\theta = 30^\circ$. O trenó é puxado por um motor e sobe com uma velocidade constante de 7,5 m/s.

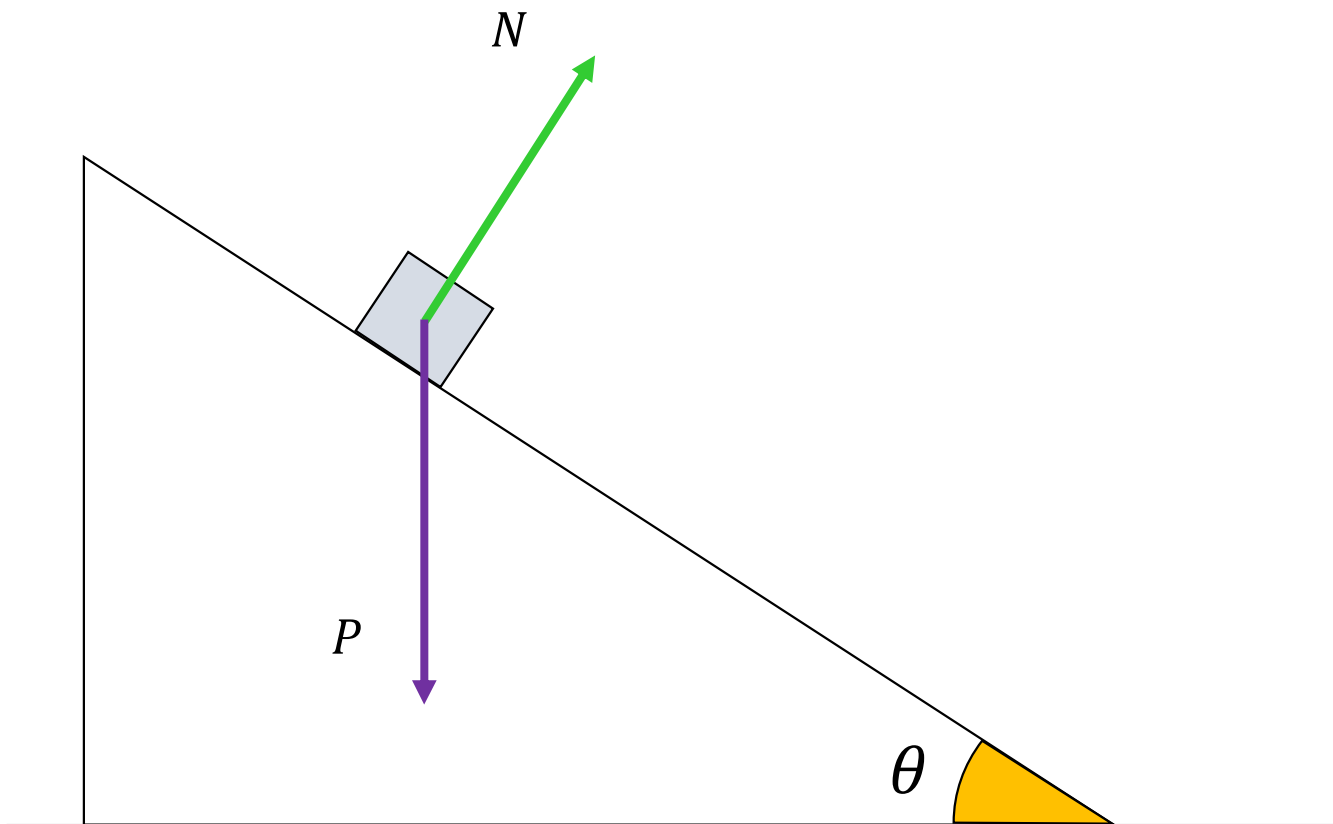
Dado: $g = 10 \text{ m/s}^2$



Em dado instante do transporte de mercadorias, a última caixa se desprende, estando à altura $h = 5 \text{ m}$. Considerando que o atrito é desprezível na rampa e que a caixa fica livre a partir do instante em que se solta,

- desenhe um diagrama contendo as forças que atuam sobre a caixa e determine sua aceleração;
- calcule o tempo que a caixa levará para retornar à base da rampa.

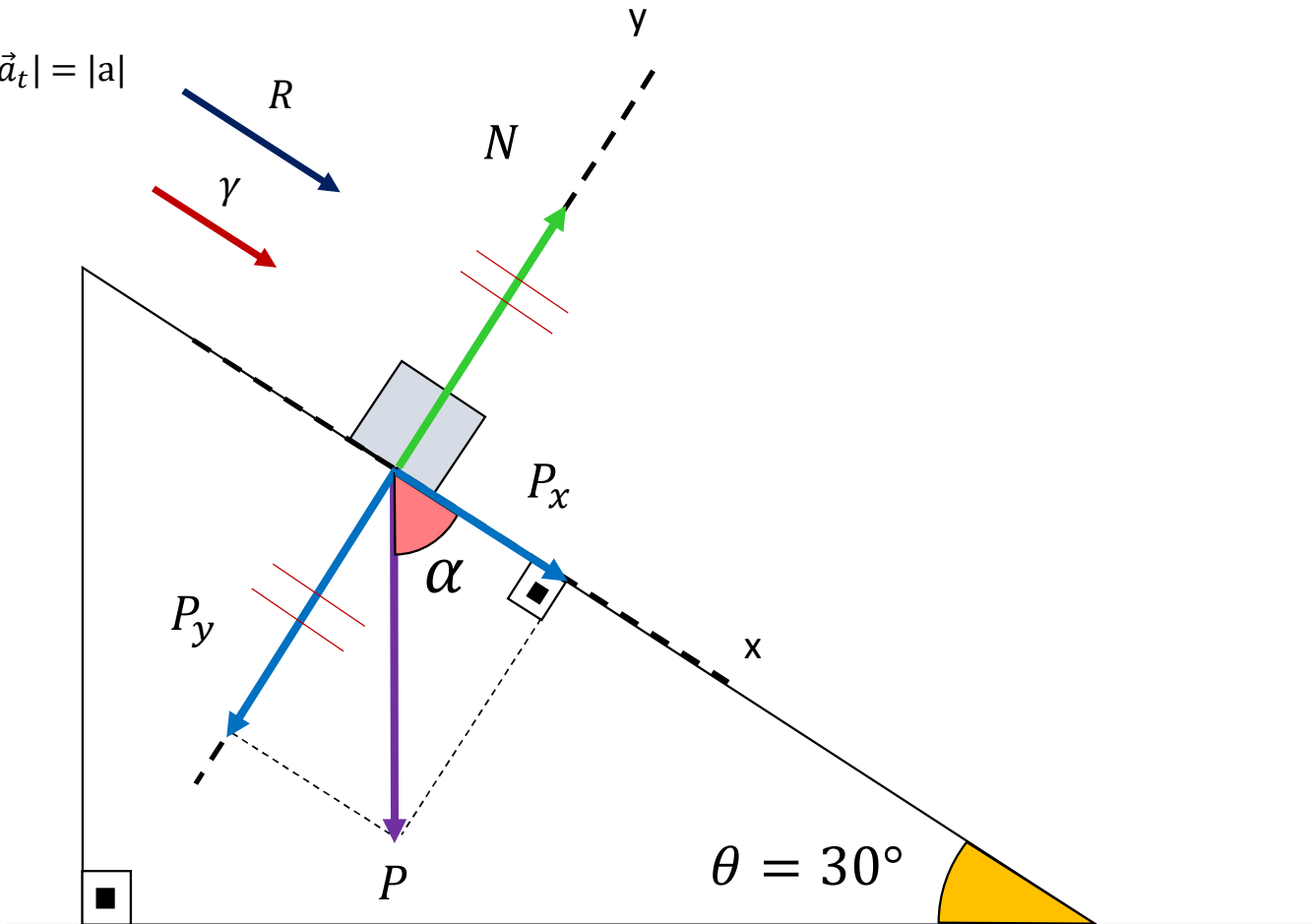
a) desenhe um diagrama contendo as forças que atuam sobre a caixa e determine sua aceleração;



a) desenhe um diagrama contendo as forças que atuam sobre a caixa e **determine sua aceleração;**

$$\vec{R} = m \cdot \vec{\gamma}$$

$$|\vec{\gamma}| = |\vec{a}_t| = |a|$$



Eixo x

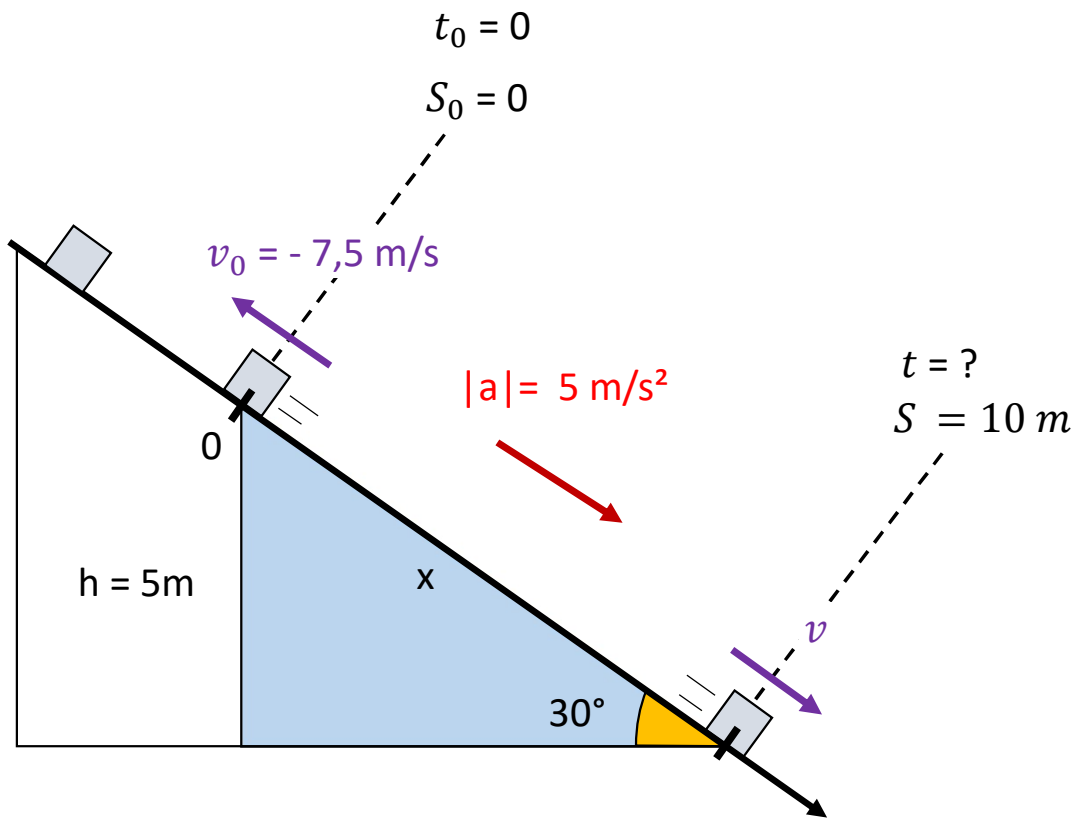
$$R = P_x$$

~~$$m \cdot |a| = m \cdot g \cdot \text{sen } \theta$$~~

$$|a| = 10 \cdot 0,5$$

$$|a| = 5 \text{ m/s}^2$$

b) calcule o tempo que a caixa levará para retornar à base da rampa.



$$\text{sen}30^\circ = \frac{h}{x} \rightarrow 0,5 = \frac{5}{x} \rightarrow x = \frac{5}{0,5} = 10\text{ m}$$

$$S = S_0 + v_0 \cdot t + \frac{1}{2} \cdot a \cdot t^2$$

$$10 = 0 - 7,5 \cdot t + \frac{1}{2} \cdot 5 \cdot t^2$$

$$0 = -10 - 7,5 \cdot t + 2,5 \cdot t^2$$

$$0 = c + b \cdot x + a \cdot x^2$$

$$\Delta = b^2 - 4ac$$

$$\Delta = -7,5^2 - 4 \cdot (2,5) \cdot (-10)$$

$$\Delta = 56,25 + 100 = 156,25$$

$$t = \frac{-b \pm \sqrt{\Delta}}{2a} = \frac{-(-7,5) \pm 12,5}{2(2,5)}$$

$$t = \frac{+7,5 + 12,5}{5} = 4$$

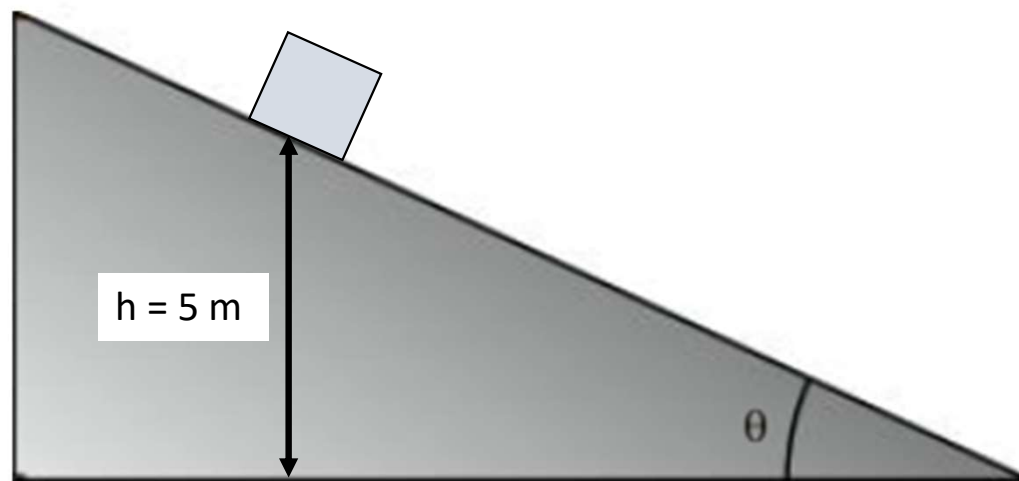
$$t = \frac{+7,5 - 12,5}{5} = -1$$

$$\therefore t = 4\text{s}$$

Exercícios extras do Caio

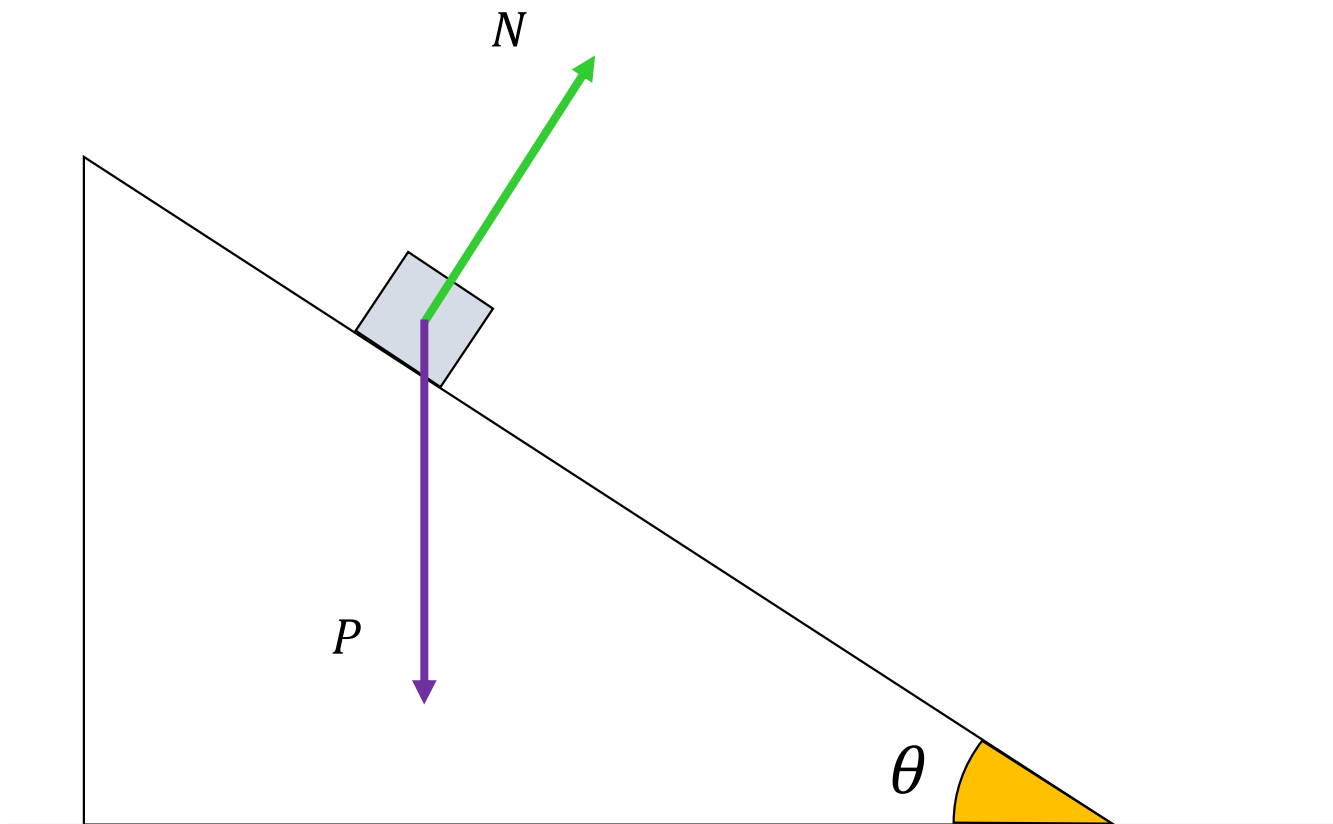
1. Um bloco é abandonado em uma rampa cuja inclinação é $\theta = 30^\circ$. A altura inicial do corpo é $h = 5\text{ m}$.

Dado: $g = 10\text{ m/s}^2$



- desenhe um diagrama contendo as forças que atuam sobre a caixa e determine sua aceleração;
- calcule o tempo que a caixa levará chegar à base da rampa.

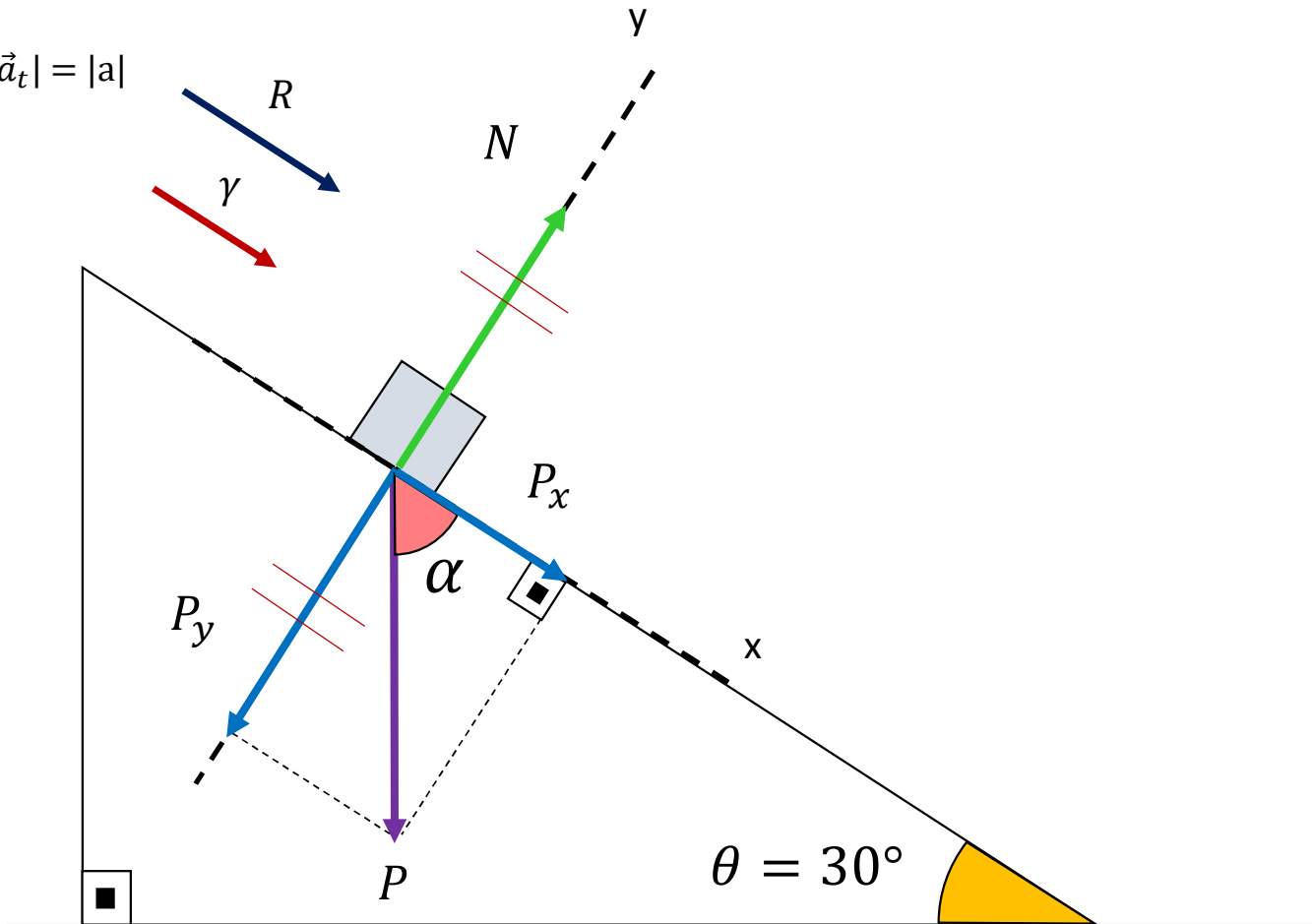
a) desenhe um diagrama contendo as forças que atuam sobre a caixa e determine sua aceleração;



a) desenhe um diagrama contendo as forças que atuam sobre a caixa e **determine sua aceleração;**

$$\vec{R} = m \cdot \vec{\gamma}$$

$$|\vec{\gamma}| = |\vec{a}_t| = |a|$$



Eixo x

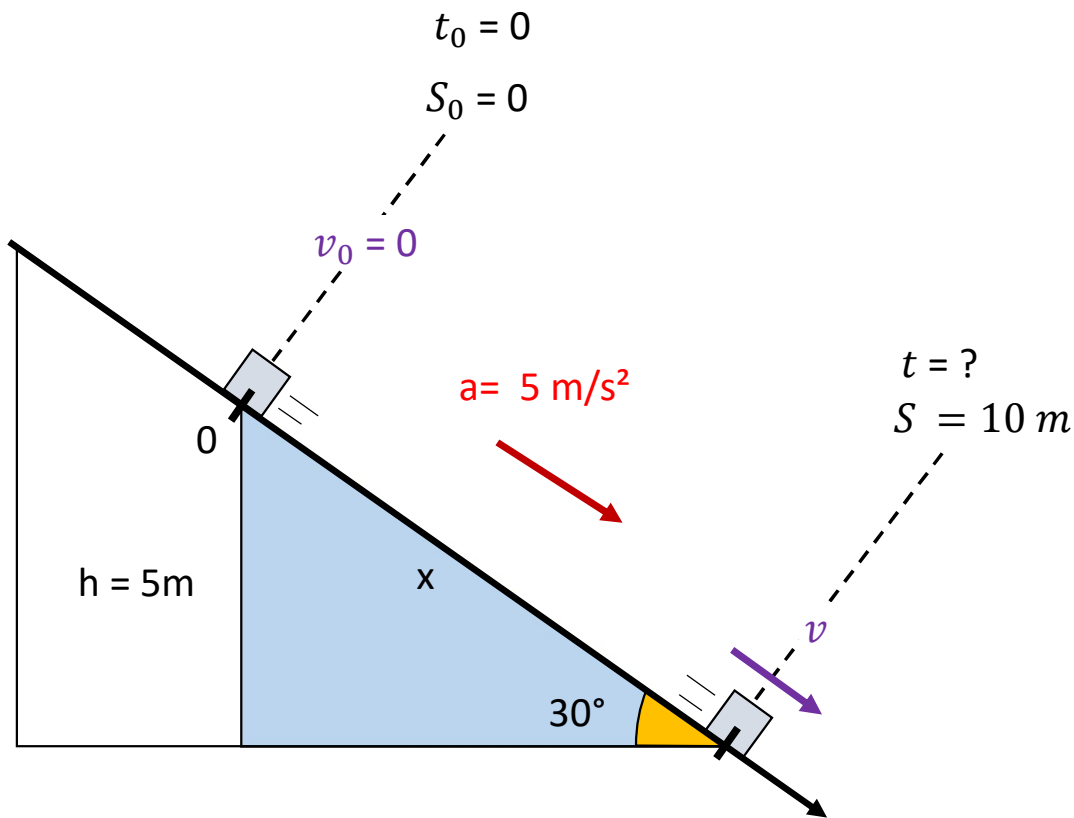
$$R = P_x$$

~~$$m \cdot |a| = m \cdot g \cdot \text{sen } \theta$$~~

$$|a| = 10 \cdot 0,5$$

$$|a| = 5 \text{ m/s}^2$$

b) calcule o tempo que a caixa levará para chegar à base da rampa.



$$S = S_0 + v_0 \cdot t + \frac{1}{2} \cdot a \cdot t^2$$

$$10 = 0 + 0 + \frac{1}{2} \cdot 5 \cdot t^2$$

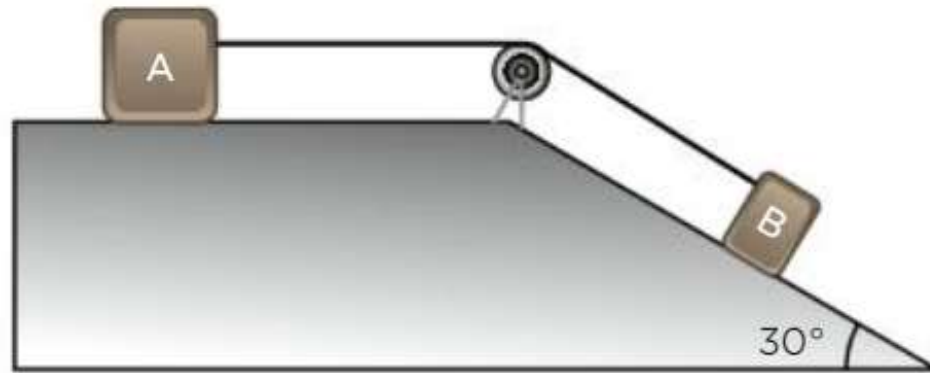
$$10 = 2,5 \cdot t^2$$

$$t^2 = \frac{10}{2,5} = 4$$

$$\therefore t = 2\text{s}$$

$$\text{sen } 30^\circ = \frac{h}{x} \rightarrow 0,5 = \frac{5}{x} \rightarrow x = \frac{5}{0,5} = 10\text{ m}$$

2. (UEL-PR) Dois blocos A e B de massas $m_A = 2 \text{ kg}$ e $m_B = 3 \text{ kg}$, ligados por um fio, são dispostos conforme o esquema a seguir, num local onde $g = 10 \text{ m/s}^2$.



Desprezando-se os atritos e considerando ideais a polia e o fio, determine a intensidade da força tensora no fio. Considere $\sin 30^\circ = 0,5$ e $\cos 30^\circ = 0,87$

2. (UEL-PR) Dois blocos A e B de massas $m_A = 2 \text{ kg}$ e $m_B = 3 \text{ kg}$, ligados por um fio, são dispostos conforme o esquema a seguir, num local onde $g = 10 \text{ m/s}^2$.

Desprezando-se os atritos e considerando ideais a polia e o fio, determine a intensidade da força tensora no fio. Considere $\text{sen } 30^\circ = 0,5$ e $\text{cos } 30^\circ = 0,87$

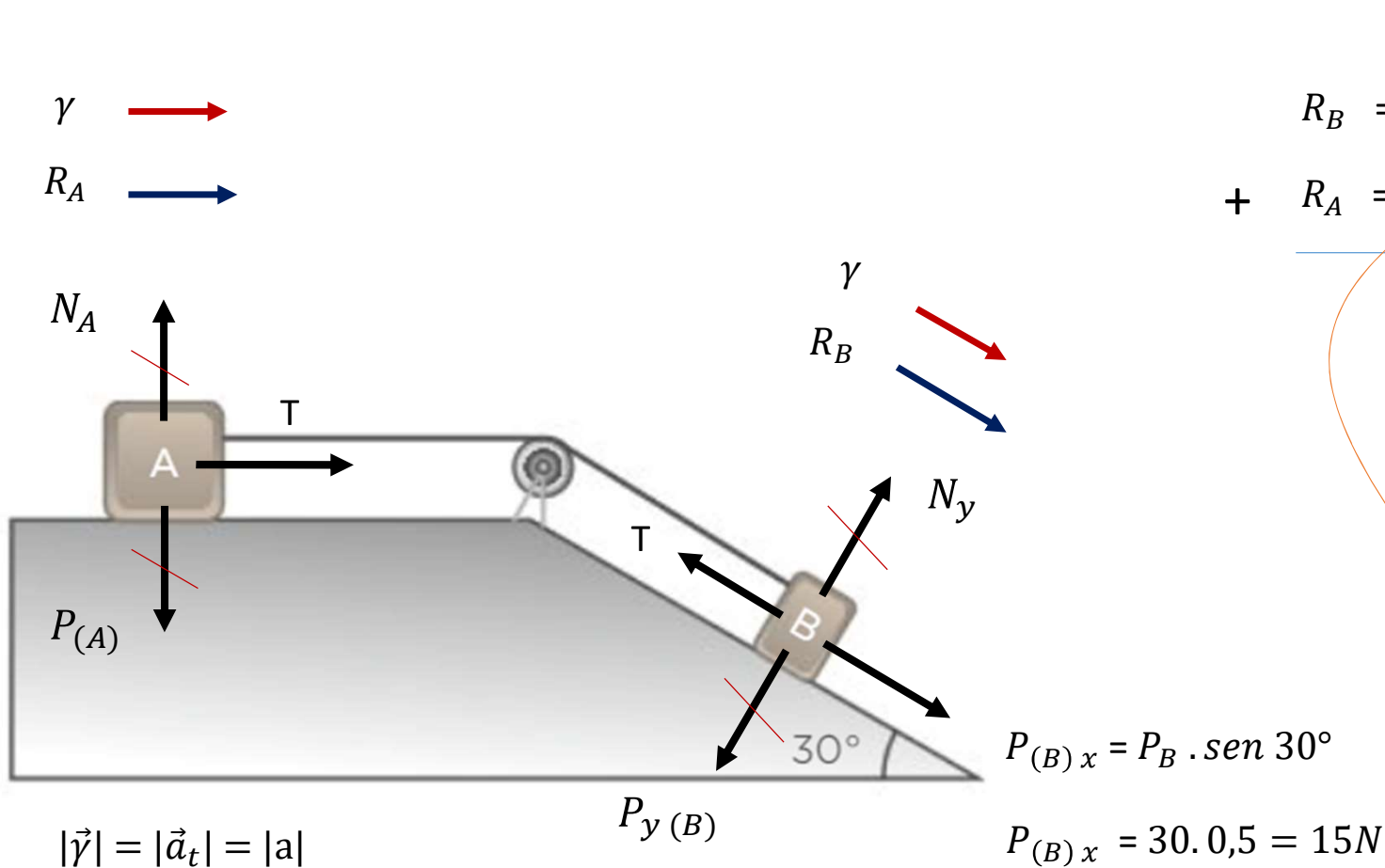
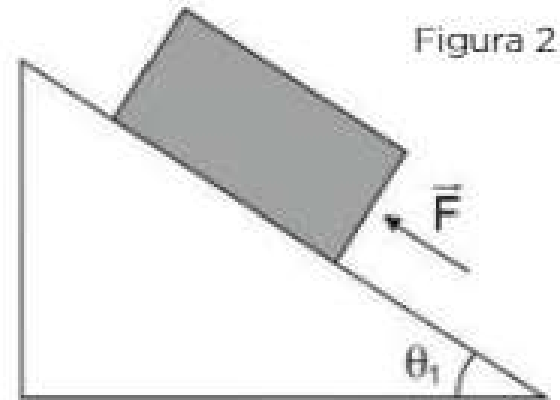
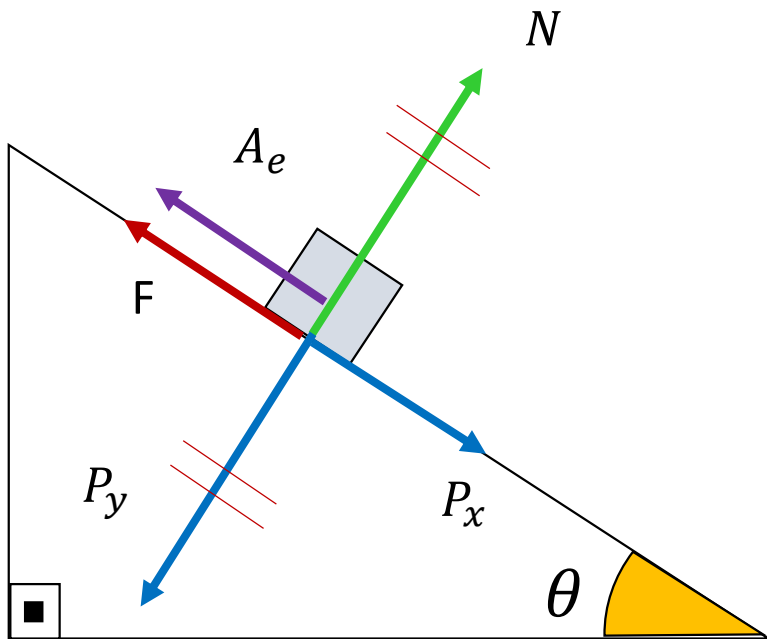


	Figura	2ª Lei
	$R_B =$	$P_{(B)x} - T = m_B \cdot a $
+	$R_A =$	$T = m_A \cdot a $
<hr/>		
		$P_{(B)x} = m_A \cdot a + m_B \cdot a $
		$15 = 2 \cdot a + 3 \cdot a $
		$15 = 5 a $
		$\therefore a = 3 \text{ m/s}^2$
		$T = m_A \cdot a $
		$T = 2 \cdot 3 = 6N$

3. (Unesp-SP - Adaptada) Um homem sustenta uma caixa de peso 1 000 N, que está apoiada em uma rampa com atrito, a fim de colocá-la em um caminhão, como mostra a figura 1. O ângulo de inclinação da rampa em relação à horizontal é igual a θ e a força de sustentação aplicada pelo homem para que a caixa não deslize sobre a superfície inclinada é F , sendo aplicada à caixa paralelamente à superfície inclinada, como mostra a figura 2. Quando o ângulo θ é tal que $\sin \theta = 0,60$ e $\cos \theta = 0,80$, o valor mínimo da intensidade da força F é 200 N. Calcule o coeficiente de atrito estático entre o bloco e a superfície.



3. (Unesp-SP - Adaptada) Um homem sustenta uma caixa de peso 1 000 N, que está apoiada em uma rampa com atrito, a fim de colocá-la em um caminhão, como mostra a figura 1. O ângulo de inclinação da rampa em relação à horizontal é igual a θ e a força de sustentação aplicada pelo homem para que a caixa não deslize sobre a superfície inclinada é F , sendo aplicada à caixa paralelamente à superfície inclinada, como mostra a figura 2. Quando o ângulo θ é tal que $\text{sen } \theta = 0,60$ e $\text{cos } \theta = 0,80$, o valor mínimo da intensidade da força F é 200 N. Calcule o coeficiente de atrito estático entre o bloco e a superfície.



$$P = 1000 \text{ N}$$

Repouso ($R = 0$)

$$F + A_e = P_x \quad P_x = P \cdot \text{sen } \theta = 1000 \cdot 0,6 = 600 \text{ N}$$

$$200 + \mu \cdot 800 = 600$$

$$800\mu = 600 - 200$$

$$800\mu = 400$$

$$\therefore \mu = 0,5$$

$$A_e^{m\acute{a}x} = \mu \cdot N$$

$$N = P \cdot \text{cos } \theta = 1000 \cdot 0,8 = 800 \text{ N}$$

$$A_e^{m\acute{a}x} = \mu \cdot 800$$